

Ihumanea Pāngarau Motukā Karakara 2 MĀ TE KAIKO

Kia Mōhio te Ākonga ki:

- te tātai hautanga

Kupu Matua:

hautau

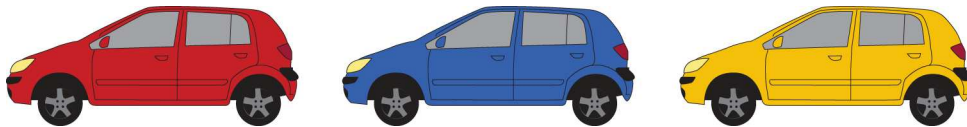
Whāinga Paetae:

Taumata 4, Te Tau me te Taurangi

- Ka kōwhiri, ka whakamārama i te rautaki e tino whaihua ana hei whakaoti rapanga e whai wāhi mai ana te tauoti, te hautau, te tau ā-ira, te ōrau, te ōwehenga, te tau tōpū me te taupū māmā, arā, rautaki tatau, rautaki tāpiripiri, rautaki whakarea, rautaki pānga riterite māmā.

Hei Mahi:

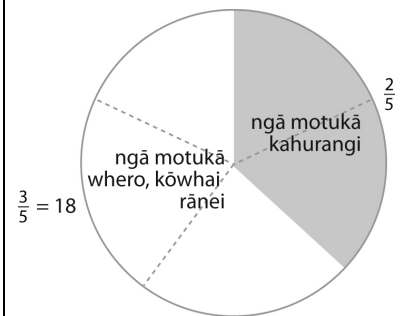
He motukā whero, he motukā kahurangi, he motukā kōwhai kua tū ki te papa motukā.



- He kahurangi te rua haurima ($\frac{2}{5}$) o ngā motukā.
- 15 ngā motukā whero.
- E 3 ngā motukā kōwhai.

- Whiriwhiria te maha o ngā motukā kahurangi.

He kahurangi te $\frac{2}{5}$ o ngā motukā, nō reira he whero, he kōwhai rānei te $\frac{3}{5}$.
18 ngā motukā whero, kōwhai rānei (15 + 3). He ōrite te 18 ki te $\frac{3}{5}$ o ngā motukā katoa.
Nō reira e 6 te $\frac{1}{5}$ o ngā motukā, 12 te $\frac{2}{5}$. Koia rā te maha o ngā motukā kahurangi.

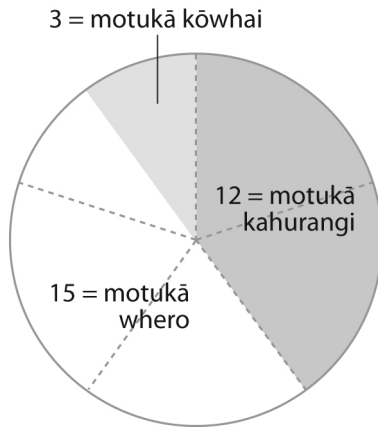


- Whiriwhiria te maha o ngā motukā katoa.

Tāpiria te 12 (ngā motukā kahurangi) me te 18 (ngā motukā whero, kōwhai rānei), ka 30. Koia te maha o ngā motukā katoa

3. He aha te hautau o ngā motukā kōwhai?

E 3 ngā motukā kōwhai o roto i ngā motukā 30 katoa. Ko te $\frac{3}{30}$ te hautau, ā, he ōrite tērā ki te $\frac{1}{10}$, te 10% rānei.



4. He aha te hautau o ngā motukā whero?

15 ngā motukā whero o roto i ngā motukā 30 katoa. Ko te $\frac{15}{30}$ te hautau, ā, he ōrite tērā ki te $\frac{1}{2}$, te 50% rānei.